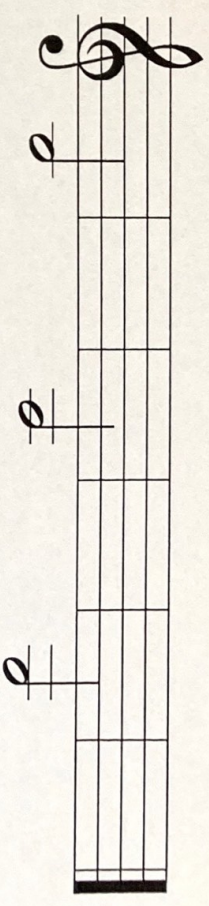


Pracovný list č.13

2. Noty

Opíš noty: malé h, malé a, malé g.

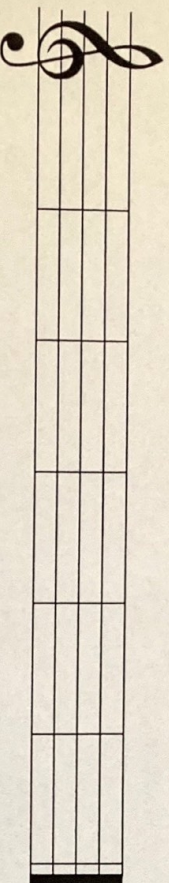


malé h malé h malé a malé a malé g malé g

Meno: _____

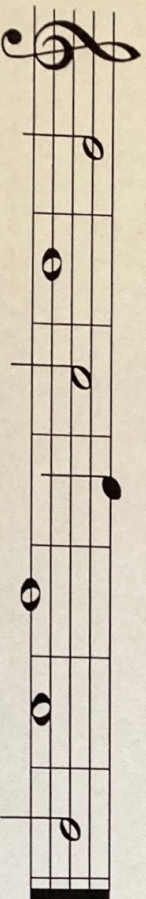
1. Noty

Napiš celé noty.



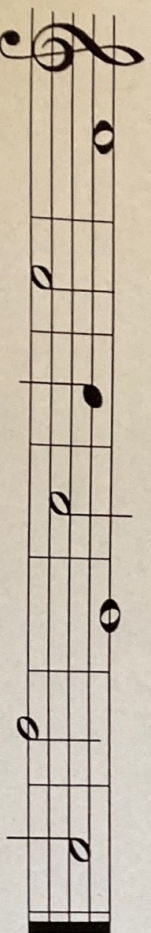
g¹ d² f¹ c² a¹ e²

Zakružkuj noty, ktoré sú správne.




d² g¹ c¹ f² d¹ f¹ a¹
polová celá celá štvrtová celá celá polová

Prečítaj noty.



3. Stupnica C dur

Doplň stupnicu C dur. Noty zapisuj ďalej od seba.



4. Doplň takt

Doplň označenie taktu $\frac{2}{4}$ $\frac{3}{4}$ alebo $\frac{4}{4}$ a cvičenie vytlieskaj.

